

LA GEOMETRIA ALLO SPECCHIO

Verifica comparativa - inizio

In questa "verifica" potresti trovare parole di cui non conosci il significato esatto o concetti di cui hai già sentito parlare ma che non abbiamo ancora affrontato in classe, nelle ore di matematica: non preoccuparti!

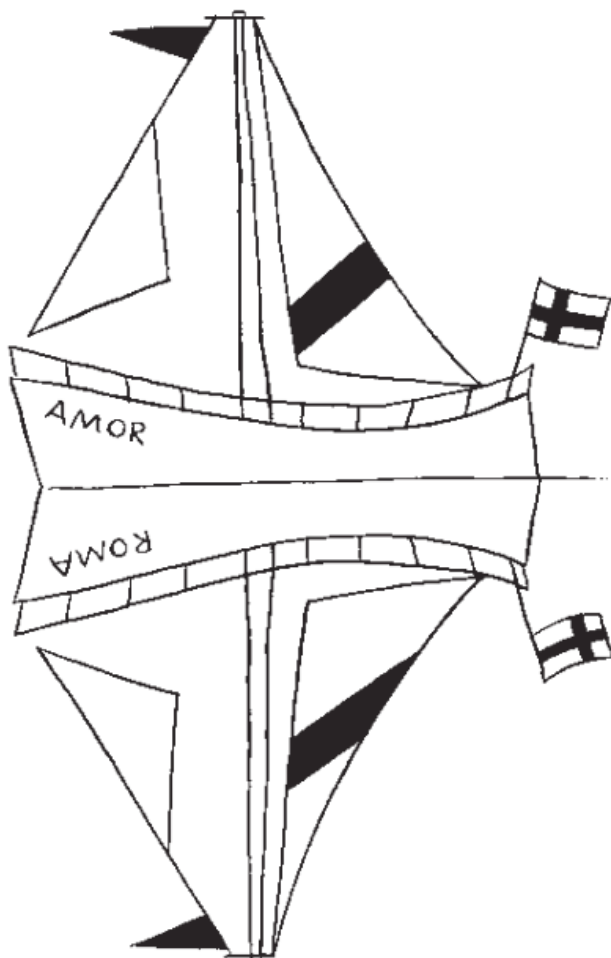
Un'altra "verifica" con domande uguali (o molto simili) a queste ti verrà sottoposta alla fine del laboratorio che intraprenderemo. L'attività di oggi serve proprio per essere confrontata con quella finale, per capire se il laboratorio che faremo sarà servito a insegnarti qualcosa o sarà stato solo un passatempo.

Rispondi con tranquillità, quindi, alle domande alle quali ti senti di rispondere, senza timore di essere giudicato impreparato!

Cognome e nome: _____

classe I C

data: _____






Esercizio 1

Cerca tutti gli errori che ha commesso il bambino nel disegnare il riflesso di questa barca sull'acqua.

Evidenziali cerchiandoli in verde.

Indica con una crocetta le immagini che evocano una simmetria di riflessione. Sotto ogni fotografia scrivi perché l'hai scelta o perché non l'hai scelta.

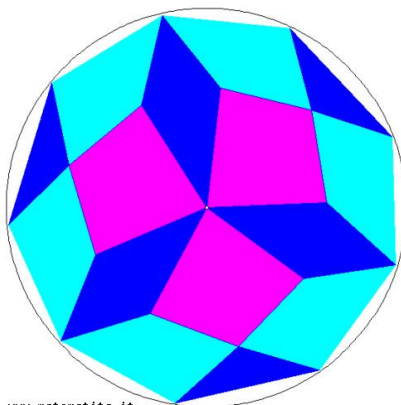
		
<input type="checkbox"/>	<input type="checkbox"/>	<input type="checkbox"/>

Esercizio 3

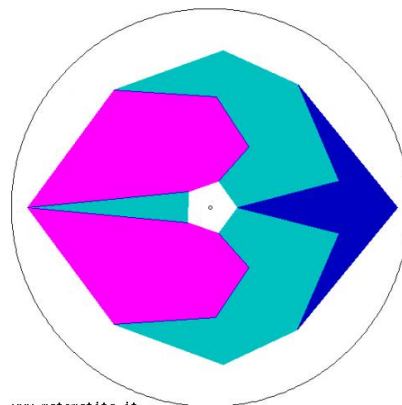
Tra le seguenti immagini, indica con una crocetta quelle che hanno almeno un asse di simmetria. Disegna sulla figura l'asse da te trovato.



www.matematita.it



www.matematita.it



www.matematita.it

LA GEOMETRIA ALLO SPECCHIO

Verifica comparativa - fine

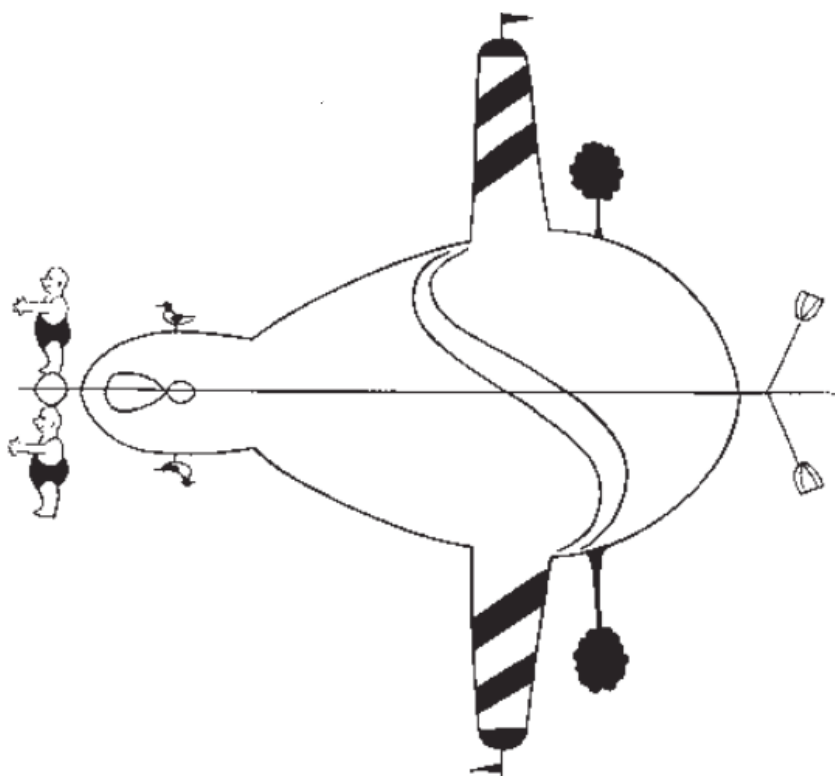
Questa "verifica" è molto simile a quella che abbiamo fatto prima di iniziare il laboratorio. L'attività di oggi serve proprio per essere confrontata con quella iniziale, per capire se il laboratorio che abbiamo fatto è servito a insegnarti qualcosa o è stato solo un passatempo.

Rispondi con tranquillità alle domande alle quali ti senti di rispondere, sfruttando tutto quello che hai imparato lavorando nei gruppi in questo laboratorio!

Cognome e nome: _____

classe I C

data: _____






Esercizio 1

Cerca tutti gli errori nella simmetria assiale.

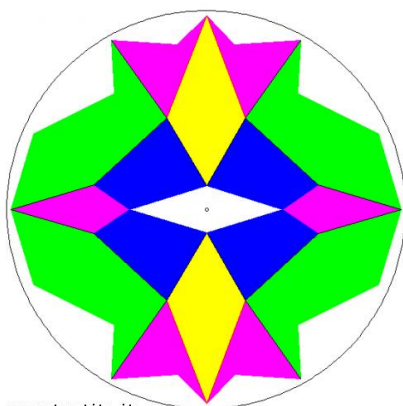
Evidenziali cerchiandoli in verde.

Indica con una crocetta le immagini che evocano una simmetria di rotazione. Sotto ogni fotografia scrivi perché l'hai scelta o perché non l'hai scelta.


		
<input type="checkbox"/>	<input type="checkbox"/>	<input type="checkbox"/>

Esercizio 3

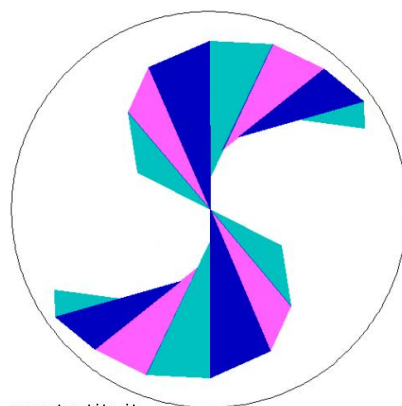
Tra le seguenti immagini, indica con una crocetta quelle che hanno almeno un asse di simmetria. Disegna sulla figura gli assi da te trovati.



www.matematita.it



www.matematita.it



www.matematita.it



